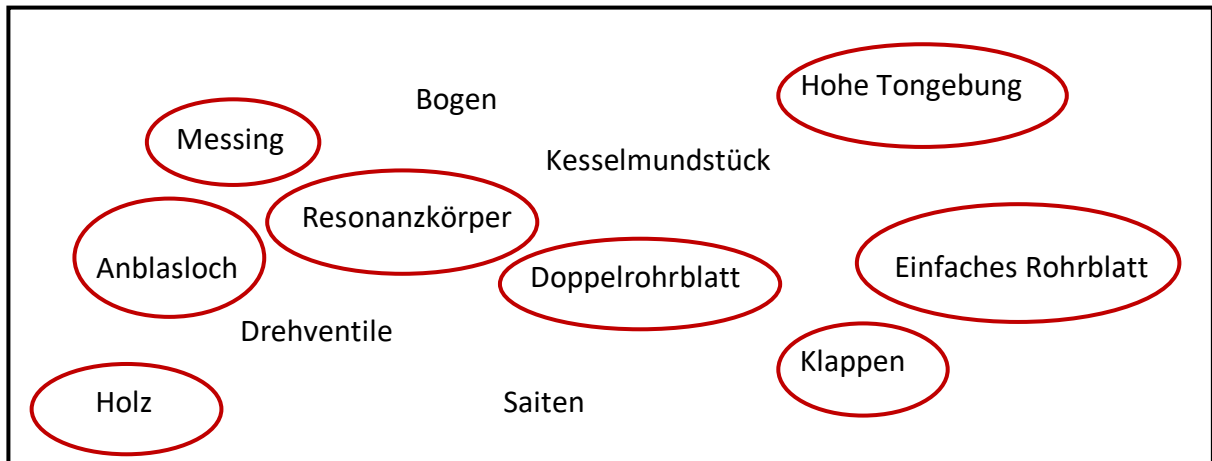


Die Holzblasinstrumente - Lösung

Die Informationen zur Bearbeitung der Aufgaben kannst Du aus den Infotexten auf der Webseite fragedervorstellung.de entnehmen.

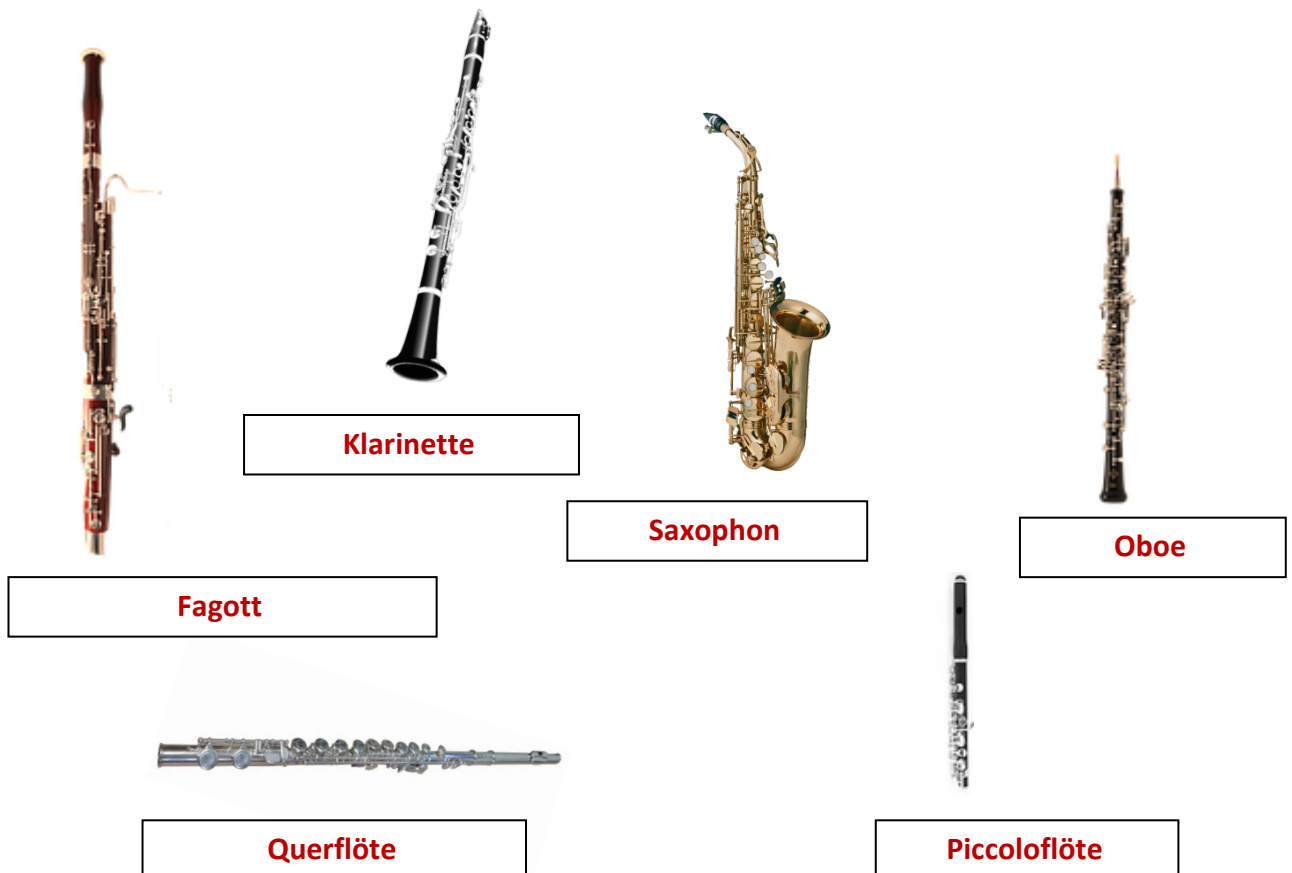
Aufgabe 1: Was ist ein Holzblasinstrument?

Markiere die Eigenschaften und Instrumententeile, die auf ein Holzblasinstrument zutreffen.



Aufgabe 2: Wie heißen die Holzblasinstrumente?

Benenne die untenstehenden Holzblasinstrumente.



Aufgabe 3: Welches Mundstück gehört zu welchem Instrument?

Schreibe den passenden Namen des Mundstückes unter das Instrument.

Achtung: Manche Instrumente haben den gleichen Mundstücknamen.



Kopfstück mit Anblasloch

Oberstück mit Doppelrohrblatt

Kopfstück mit Anblasloch



S-Bogen mit Doppelrohrblatt

Mundstück mit einfachem Rohrblatt

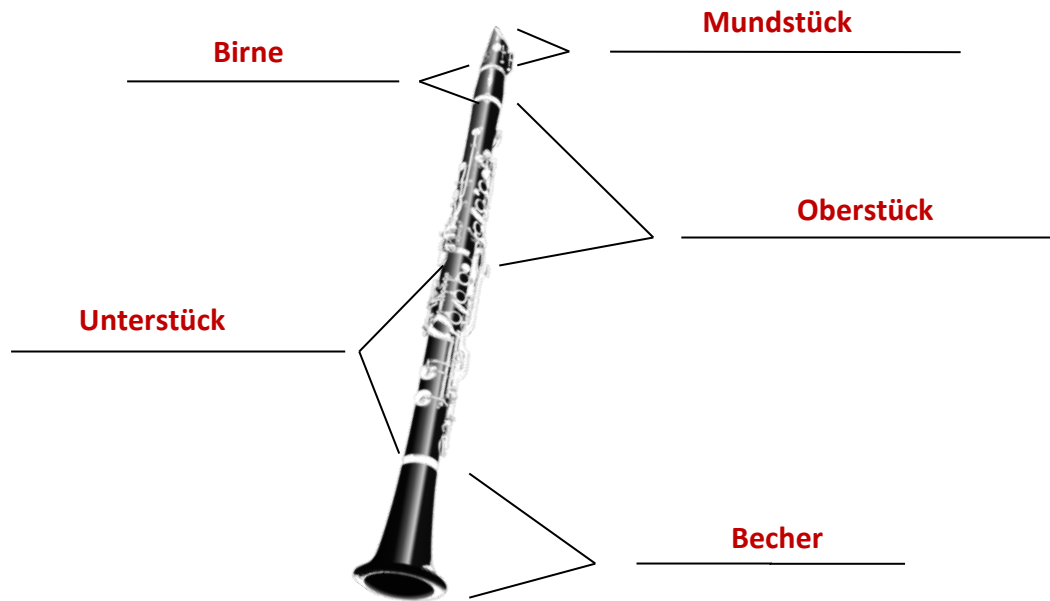
Mundstück mit einfachem Rohrblatt

Aufgabe 4: Aus welchen Teilen besteht das Instrument?

Beschrifte die einzelnen Teile mit ihrem Namen.

a) Die Klarinette

Wortschatz: **Oberstück, Bassstange, Flügel, Birne, Unterstück, Schallstütze, Becher, Fußstück, Mundstück**



b) Die Querflöte

Wortschatz: **Kopfstück, Fußstück, S-Bogen, Birne, Unterstück, Mittelstück, Stiefel, Röhre**

