


Die Holzblasinstrumente

Die Informationen zur Bearbeitung der Aufgaben kannst Du aus den Infotexten auf der Webseite fragedervorstellung.de entnehmen.

Aufgabe 1: Wie heißen die Holzblasinstrumente?

Benenne die untenstehenden Holzblasinstrumente.



The image displays six woodwind instruments arranged in two rows. Each instrument is accompanied by an empty rectangular box for labeling. The instruments are:

- Top row (left to right):
 - A double bassoon (dark wood, two barrels).
 - A clarinet (black, single barrel).
 - A saxophone (gold, curved body).
 - An oboe (dark wood, double reed).
- Bottom row (left to right):
 - A flute (silver, horizontal).
 - A piccolo (black, vertical).

Aufgabe 2: Tonerzeugung

a) Welches Mundstück gehört zu welchem Instrument?

Schreibe den passenden Namen des Mundstückes unter das Instrument.

Achtung: Manche Instrumente haben den gleichen Mundstücknamen.













Schwierigkeitsstufe 3

b) Beschreibe den Unterschied zwischen einem einfachen Rohrblatt und einem Doppelrohrblatt.

c) Nenne die Holzblasinstrumente, die durch das Überblasen eine Oktave höher erklingen.

d) Wovon ist die Tonhöhe eines Blasinstrumentes abhängig?

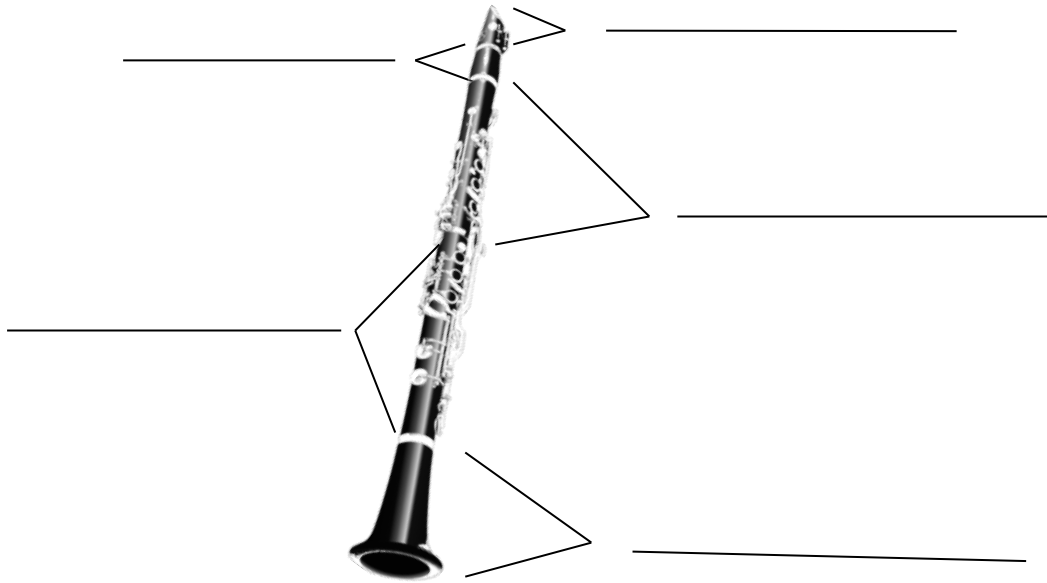
Kreuze die richtige Antwort an.

- vom Mundstück
- von der Länge der Schallröhre
- von dem Material des Instrumentes


Aufgabe 4: Aus welchen Teilen besteht das Instrument?

Beschrifte die einzelnen Teile mit ihrem Namen.

a) Die Klarinette



b) Die Querflöte



Aufgabe 5: Instrumentenquiz

Welches Holzblasinstrument wird gesucht? Mehrfachantworten sind möglich.

a) Das Instrument ist aus Metall und gehört zu den Holzblasinstrumenten.

b) Das Instrument hat eine gebogene Schallröhre.

c) Das Instrument wird quer gehalten.

d) Das Instrument hat ein Mundstück mit einem Doppelrohrblatt.

e) Das Instrument hat ein Mundstück mit einem einfachen Rohrblatt.

f) Das Instrument ist das kleinste der Holzblasinstrumente.

g) Das Instrument ist in C gestimmt.
